

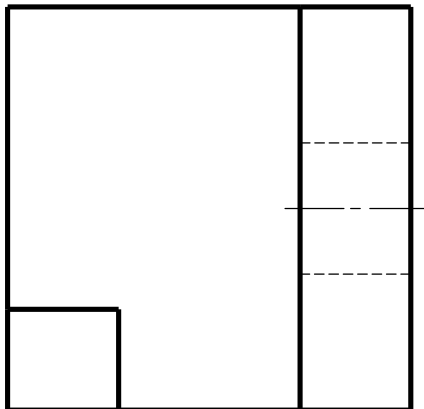
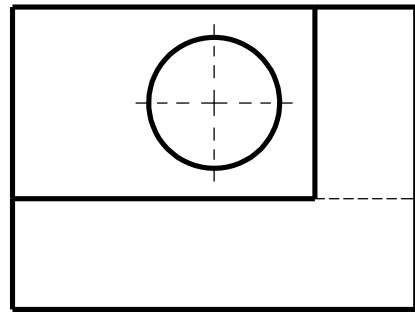
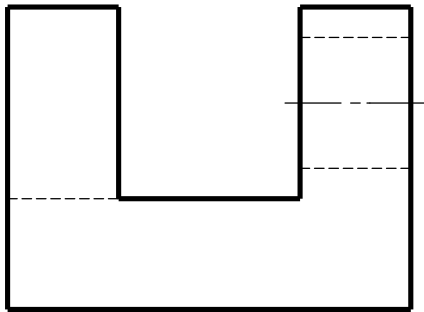
Page 1/3

DEPARTEMENT DE TECHNOLOGIE
MODULE DE DESSIN TECHNIQUE

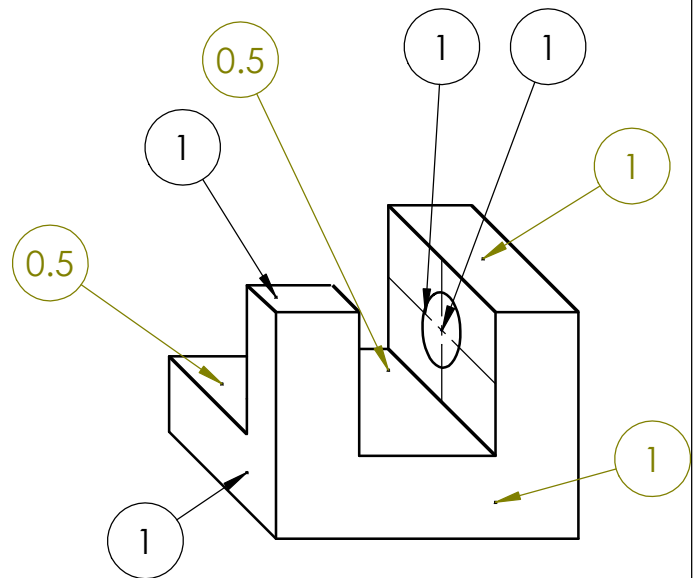
12-03-2016

DEVOIR SURVEILLE DU DEUXIEME SEMESTRE (Durée 1h30)

EXERCICE 1 : Dessiner la perspective cavalière de la pièce suivante.
Echelle 1/1



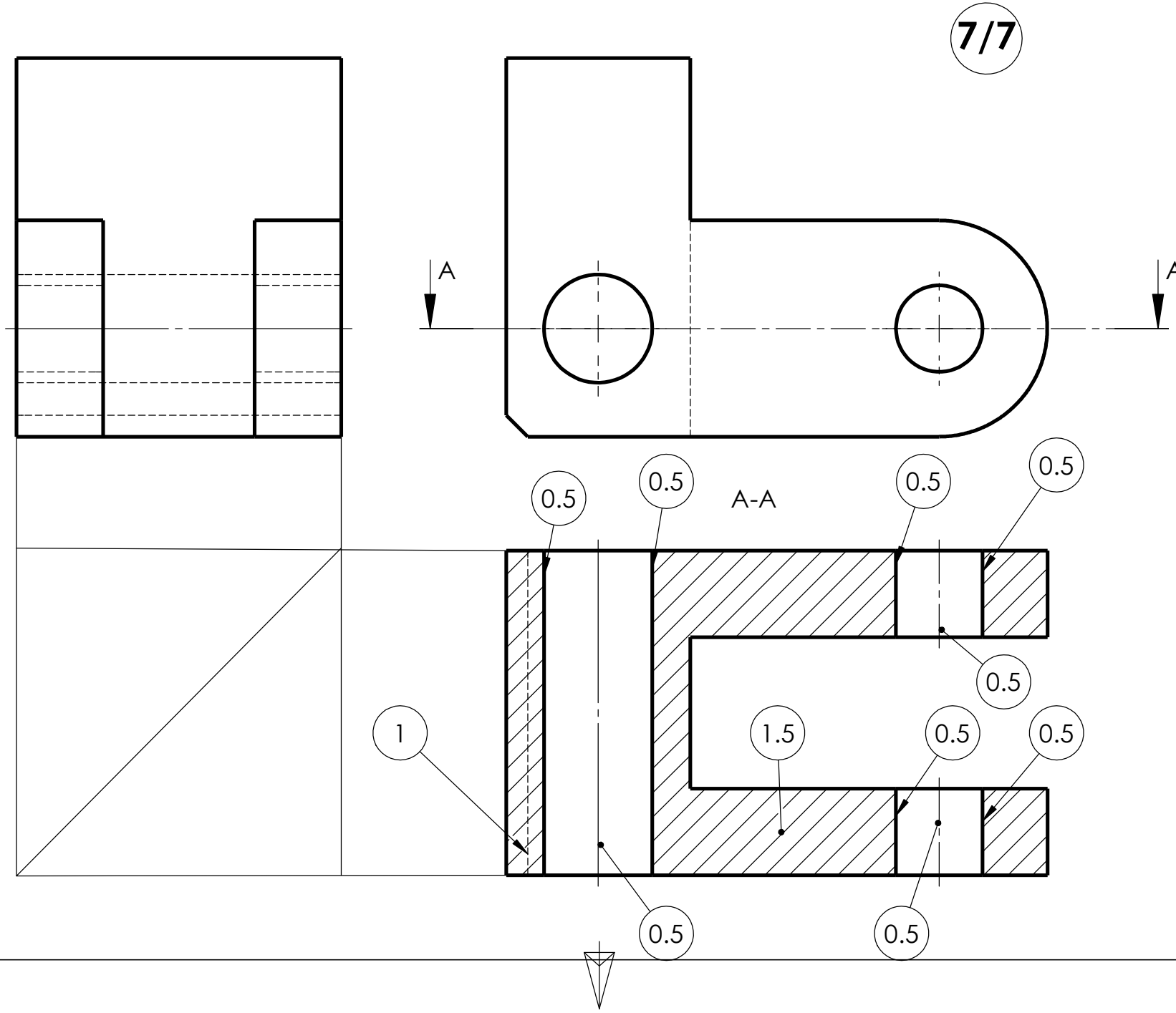
7/7

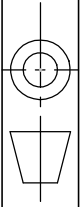


	<p>E - P - S - T - TLEMCEN</p>	<p>Echelle: 1/1</p>
<p>DEPARTEMENT DE TECHNOLOGIE</p>	<p>Devoir surveillé du deuxième Semestre</p>	<p>Nom:</p>
<p>Sec: Gr:</p>		<p>Prenom:</p>



EXERCICE 2: Dessiner la vue de dessus en coupe A_A.



 DEPARTEMENT DE TECHNOLOGIE	E - P - S - T - TLEMCCEN		ECHELLE 1/1
	Devoir surveillé du deuxième Semestre		Nom: Prenom:
Sec: Gr:			

EXERCICE 3 : Répondre par **VRAI** ou **FAUX**

6/6



Ligne:FAUX..... (0.5)



Miroir:VRAI..... (0.5)



Copier:VRAI..... (0.5)



Chanfrein:FAUX..... (0.5)



Décaler:FAUX..... (0.5)



Réseau:VRAI..... (0.5)



Ajuster:FAUX..... (0.5)



Déplacer:FAUX..... (0.5)



Echelle:FAUX..... (0.5)



Hachures:VRAI..... (0.5)



Ellipse:FAUX..... (0.5)



Droite:FAUX..... (0.5)

	<p>E - P - S - T - TLEMCEN</p>	<p>Echelle</p>
<p>DEPARTEMENT DE TECHNOLOGIE</p>	<p>Devoir surveillé du deuxième Semestre</p>	<p>Nom:</p>
<p>Sec: Gr:</p>		<p>Prenom:</p>

