

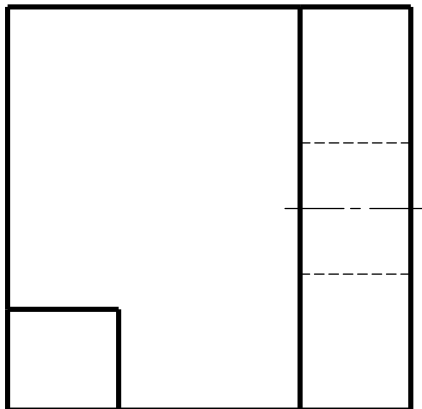
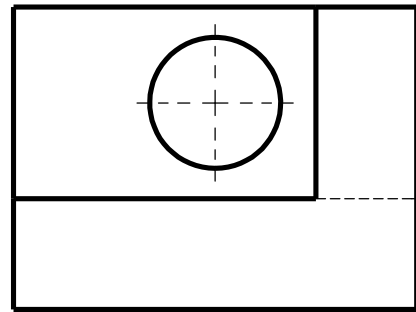
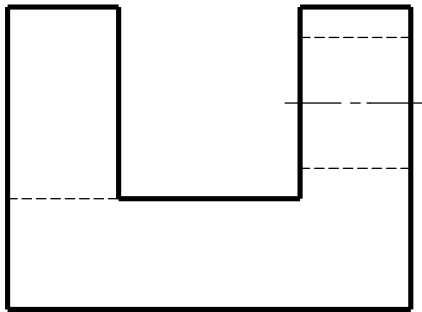
Page 1/3

DEPARTEMENT DE TECHNOLOGIE
MODULE DE DESSIN TECHNIQUE

12-03-2016

DEVOIR SURVEILLE DU DEUXIEME SEMESTRE (Durée 1h30)

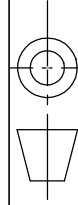
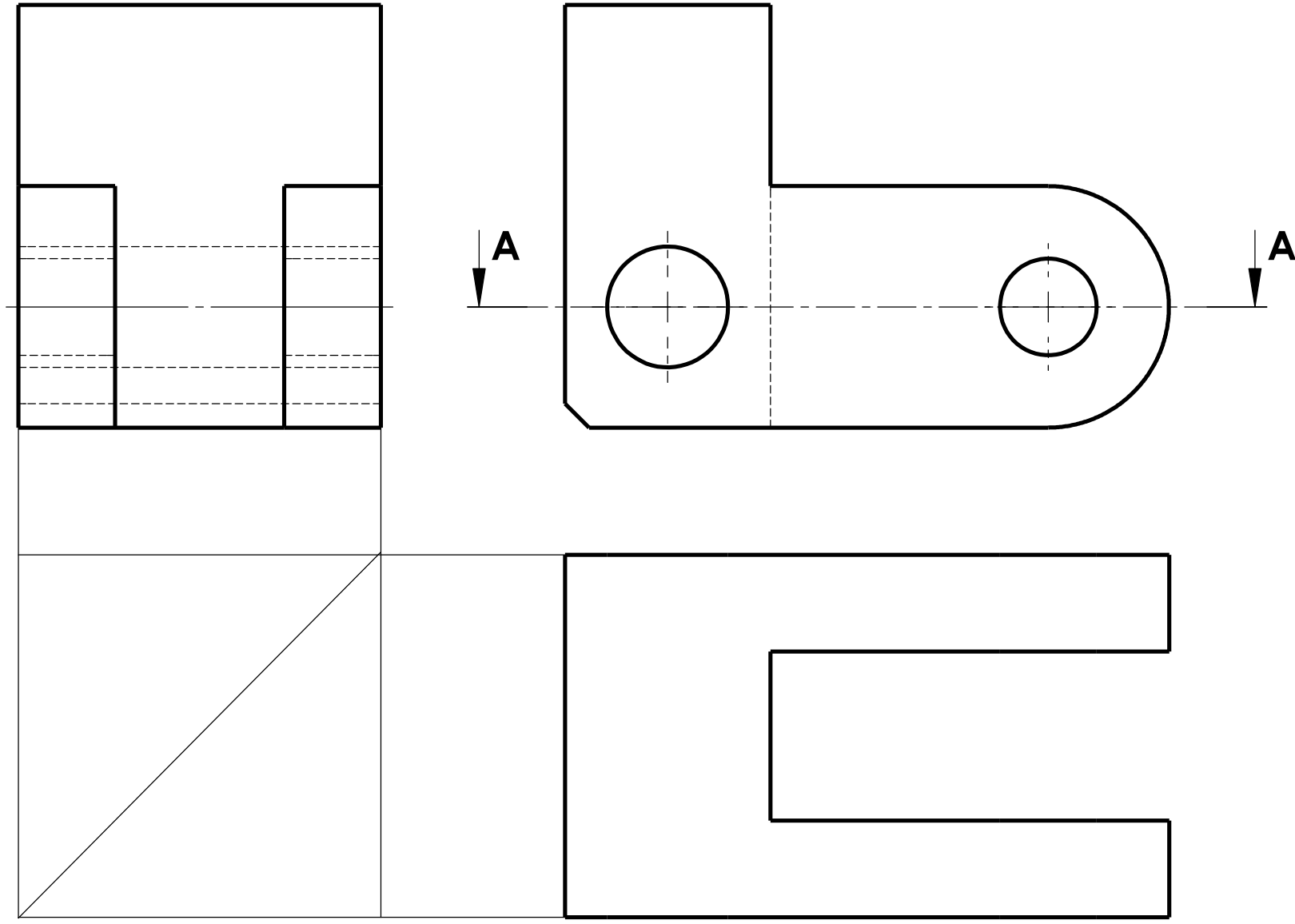
EXERCICE 1 : Dessiner la perspective cavalière de la pièce suivante.
Echelle 1/1



	<p>E - P - S - T - TLEMCEN</p>	<p>Echelle: 1/1</p>
<p>DEPARTEMENT DE TECHNOLOGIE</p>	<p>Devoir surveillé du deuxième Semestre</p>	<p>Nom:</p>
<p>Sec: Gr:</p>		<p>Prenom:</p>



EXERCICE 2: Dessiner la vue de dessus en coupe A_A.



DEPARTEMENT
DE TECHNOLOGIE

Sec:

Gr:

E - P - S - T - TLEMEN

Devoir surveillé
du deuxième Semestre

ECHELLE 1/1

Nom:

Prenom:

EXERCICE 3 : Répondre par **VRAI** ou **FAUX**



Ligne:



Miroir:



Copier:



Chanfrein:



Décaler:



Réseau:



Ajuster:



Déplacer:



Echelle:





Hachures:



Ellipse:



Droite:

	
DEPARTEMENT DE TECHNOLOGIE	
Sec:	Gr:

E - P - S - T - TLEMCEN

Devoir surveillé
du deuxième Semestre

Echelle
Nom:
Prenom:

